

Életkor: \_\_\_\_\_ Nem: \_\_\_\_\_

Iskola: \_\_\_\_\_

1.A térképek tartalma alapján válaszolj a következő kérdésekre:



A jelkulcsban válaszd ki azt a négyzetet, amely véleményed szerint a legnagyobb népsűrűséget ábrázolja. Utána jelöld ki a térképen a kiválasztott négyzet színével kitöltött területet.

Az A vagy a B területen lakik több ember?  
Melyik területen nagyobb a népsűrűség?



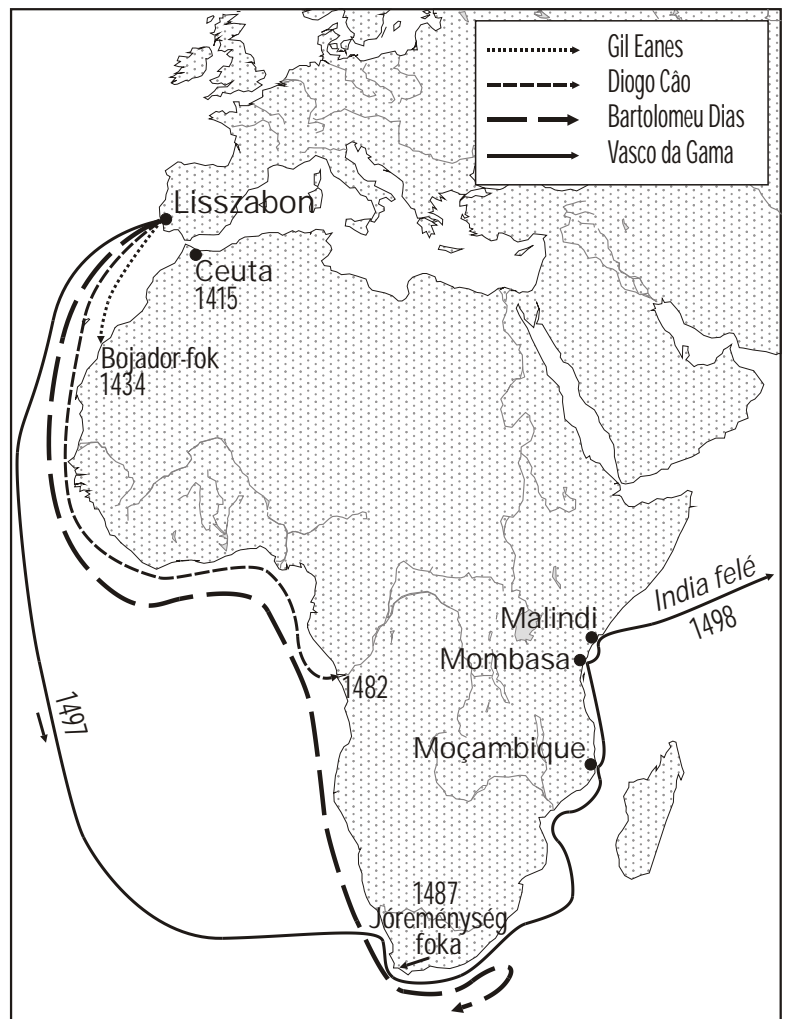
2.A térképen levő információ felhasználásával egészítsd ki a következő szöveget:

A történészek szerint Portugália afrikai terjeszkedésének a kezdete 1415, amikor a portugálok elfoglaltak \_\_\_\_\_ városát Észak-Afrikában.

1434-ben Gil Eanes felfedező túljut a \_\_\_\_\_ on, amelyet nem véletlenül "Félelem-foknak" is neveztek, mivel addig európai tengerész nem hajózott e ponton túl. Utána éveken keresztül folytatták a felfedező utakat a kontinens nyugati partján, és az \_\_\_\_\_ évben Diogo Cão utazó elérte a Kongó-folyó torkolatát.

Öt év múlva a felfedező \_\_\_\_\_ az afrikai kontinens déli csücskére jut, amelyet ő "Viharok fokának" nevezett. Ezzel a felfedezéssel megnyílt az út India felé. E jó hír hallatán II Joao portugál király megváltoztatta a fok nevét és \_\_\_\_\_ nak nevezi.

\_\_\_\_\_ júliusában Vasco da Gama Lisszabonból indult el négy hajóval. Novemberben elérte Afrika keleti partját, amelyet felderített és néhány alkalommal partra is szállt. 1498 áprilisában lehorgonyozott Calicut kikötőjében: ő volt az első európai utazó, aki Afrika kerülésével \_\_\_\_\_-ba jutott.



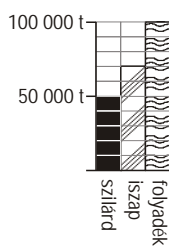
3. Magyarországon térképén jelöld meg pirossal (vagy kereszttel) azt a megyét, amelyikben a legtöbb szilárd halmazállapotú veszélyes hulladék keletkezik!

Jelöld meg késsel (vagy nyíllal) azt a megyét, amelyikben a legtöbb veszélyes hulladék keletkezik!

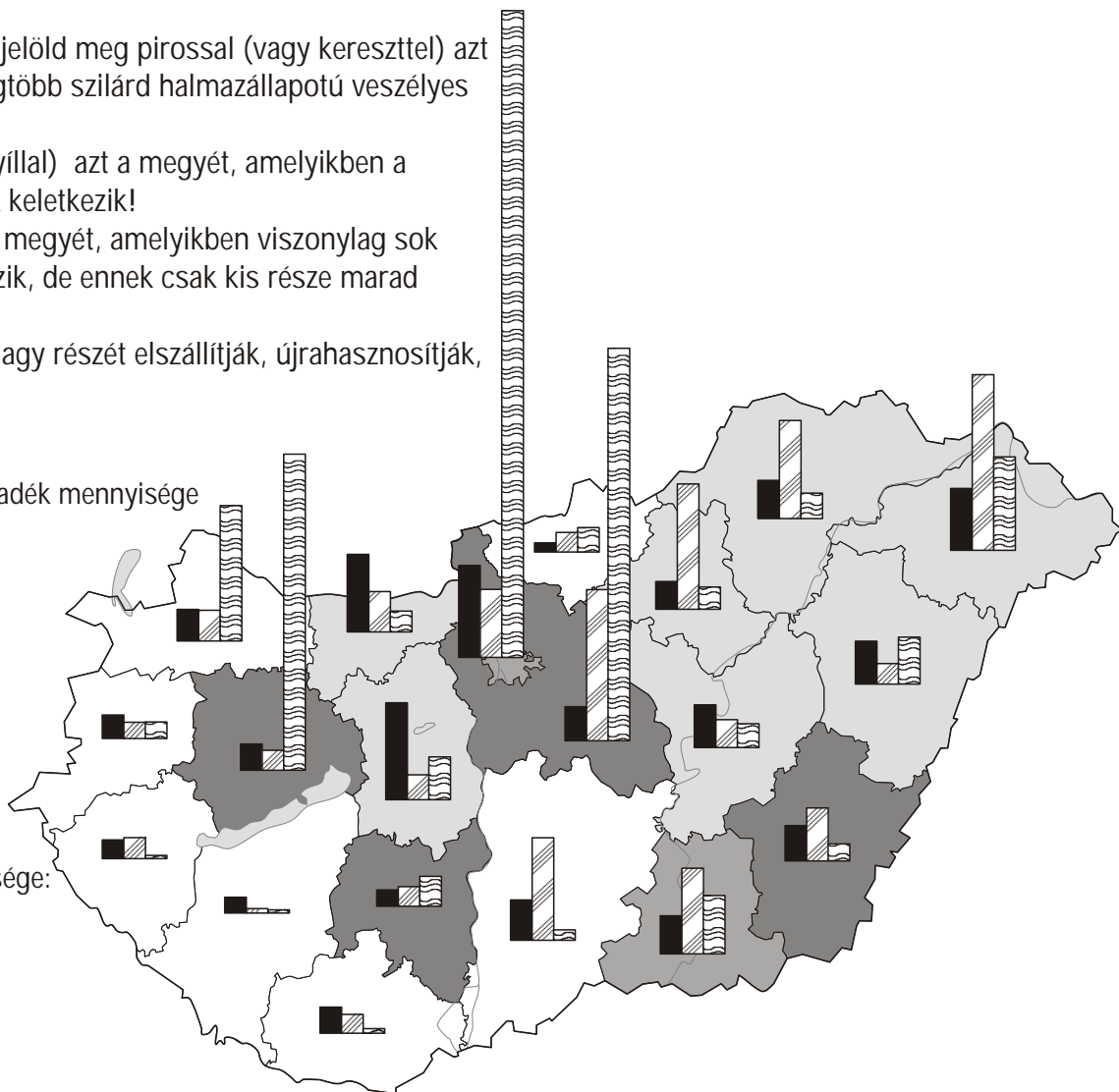
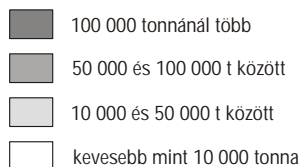
Jelöld meg csillaggal azt a megyét, amelyikben viszonylag sok veszélyes hulladék keletkezik, de ennek csak kis része marad a telephelyeken!

(A keletkezett hulladékok nagy részét elszállítják, újrahasznosítják, vagy ártalmatlanítják.)

A keletkező veszélyes hulladék mennyisége halmazállapot szerint:



A telephelyen felhalmozott veszélyes hulladék mennyisége:



4. Töltsd ki Nyugat-Magyarország térképét az adatsor és a jelkulcs alapján. Ha csak fekete ceruzával dolgozol, használd a jelkulcs jobb oldalán megadott grafikát. Ha színes ceruzával akarsz dolgozni, akkor a jelkulcs bal oldalán levő üres téglalapokat az általad kiválasztott színekkel töltsd ki.



MEGYE TELEPÜLÉSEK SZÁMA

Fejér	108
Komárom-Esztergom	76
Veszprém	217
Győr-Moson-Sopron	182
Vas	216
Zala	257
Baranya	301
Somogy	245
Tolna	108

TELEPÜLÉSEK SZÁMA



Ha valamely kérdésre nem tudtál válaszolni, jelöld meg az okát:

Nem értem a kérdést

Értem a kérdést, de nem tudom értelmezni a térképet

Egyéb: \_\_\_\_\_